

LEMBAR TES KEMAMPUAN SPASIAL

30

Pelajaran : Matematika
Materi : Geometri
Kelas : V (lima)
Waktu : 60 Menit


Nama : *Viki*
Kelas : *5A*

PETUNJUK PENGISIAN JAWABAN

1. Tulislah nama dan kelas pada lembar jawaban
2. Mulailah dengan berdoa
3. Soal dikerjakan secara individu dan tidak diperbolehkan untuk membuka buku
4. Kerjakan soal pada lembar yang disediakan
5. Kerjakan soal dengan benar dan baik
6. Cek kembali kebenaran jawaban sebelum lembar jawaban dikumpulkan

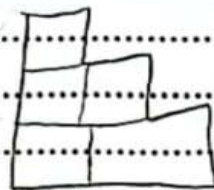
SOAL

1. Perhatikan gambar dibawah ini !




Pak ahmad sedang mengecek suatu tumpukan kardus didalam gudang. Kardus tersebut berukuran 30 cm x 30 cm. Gambarkan bentuk tumpukan kardus tersebut bila di lihat dari sisi belakang dan sisi kiri !

Jawab :



*dep. kiri dan
belakang*

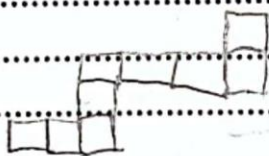
2. Gambar di bawah ini menunjukkan gambar sebuah kubus.



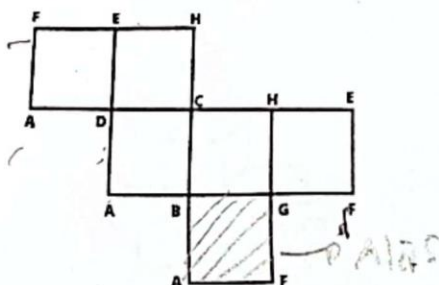
10

Gambarlah sebuah bentuk versi rotasi dari bentuk yang sama dengan bentuk di atas !

Jawab :



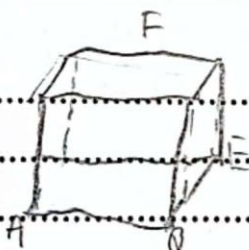
3. Perhatikan jaring-jaring dibawah ini !



10

Apabila jaring-jaring bangun diatas dilipat atau dipasang hingga membentuk bangun ruang. Sisi ABGF sebagai alas. Tentukan sisi ADEF yang berhadapan dengan sisi lainnya!

Jawab :



DCBA