










TABEL.2

TABLE 2
TES PEMAHAMAN PECAHAN

Masalah	
1. Di bawah ini merupakan gambar martabak manis dengan topping yang berbeda. Berapakah bagian martabak manis A dan B yang dilapisi keju dari bagian keseluruhan ? Tulis masing-masing tiap gambar ! Jelaskan Alasanmu	
	
Gambar A	Gambar B
2. Setiap model gambar berikut ini menunjukkan Pecahan. Manakah yang merupakan pasangan model gambar dengan nilai pecahan yang sama?	
	
Gambar 1	Gambar 2
	
Gambar 3	Gambar 4
3.	
	
Harga Rp.16.000	
	
Gambar A	Gambar B
Jika harga martabak utuh adalah Rp. 16.000, berapa harga martabak manis yang dilapisi keju pada gambar A dan B ? Jelaskan alasanmu !	

